







Complète la carte ci-contre en t'aidant des explications données dans la deuxième vidéo.

-  :
-  : zone occupée par l'armée allemande.
-  : zone « libre », occupée par l'armée à partir de novembre 1942 allemande.
-  : zone annexée (prise) par l'Allemagne.
-  : zone rattachée militairement à la Belgique.
-  : zone occupée par l'armée italienne.

Activité à faire dans le musée : repère sur le plan du musée les espaces consacrés à la défaite de 1940 et à l'Occupation allemande.

Relève dans ces espaces le maximum d'informations afin de pouvoir rédiger ton rapport.

Commence par lire le panneau jaune de chaque vitrine.

Plan du musée de la Résistance et de la Déportation du Cher

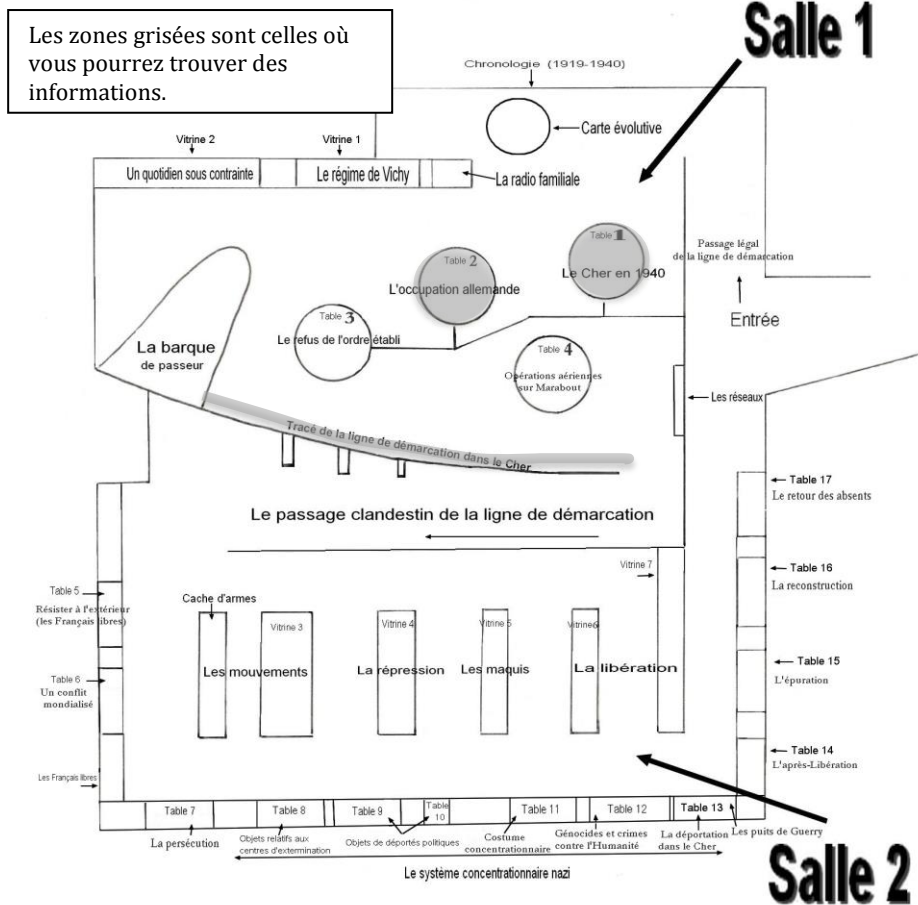


Table « le Cher en 1940 »

.....

.....

.....

.....

.....

.....

.....

.....

.....

Table « l'Occupation allemande»

.....

.....

.....

.....

.....

.....

.....

.....

.....

.....

.....

Mur « la ligne de démarcation dans le Cher»

.....

.....

.....

.....

.....

.....

.....

.....

.....

.....

.....